

令和8年度 入学試験問題（二次）

社 会

（時間 30 分）

〔 注意事項 〕

1. 試験開始の合図まで開けてはいけません。
2. 受験番号・氏名を解答用紙に記入しなさい。
3. 試験問題は2題あり全部で19ページあります。問題がぬけていたり、印刷がはつきりしない場合には申し出なさい。
4. 解答は解答用紙に記入しなさい。
5. 解答用紙だけを提出しなさい。

1

問1 ヒロシさんのグループは、稲作がどのように日本に伝わったのかを調べました。次の図1は稲作が日本にどのように伝わり、日本列島でどのように広がっていったかの一説を表したものです。この図を見て、内容として正しい文章の組み合わせを、後のア～カのうちから一つ選びなさい。

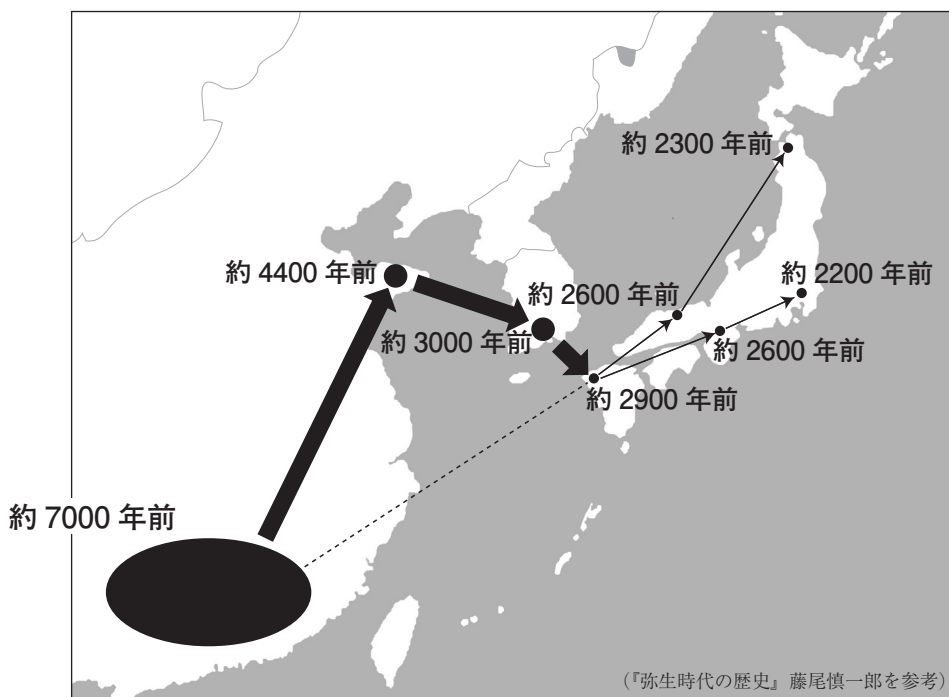


图 1

- I 米の原産地は中国南部と考えられており、日本へは主に東シナ海を越えて、九州南部に最初に伝わった。これはすでに丸木舟などを使用した海上交通が発達していたからだと考えられる。
- II 九州に伝わった稲作は、関東地方に伝わるより早く東北地方北部に伝わった。これは比較的大きな海である日本海を利用した海上交通が発達していたからだと考えられる。
- III 稲作は対馬海峡を越えて、奄美大島や沖縄本島にも伝わった。これは米がもともと亜熱帯気候の植物で育てやすかったことと、山地が少なく木の実をとる林がなく、また狩猟用の小動物が少なかったからと考えられている。
- IV 稲作は津軽海峡を越えることなく、北海道には伝わることはなかった。これは米がもともと亜熱帯気候の植物で亜寒帯気候の北海道では育ちづかったことと、鮭などの食物が定期的に手に入ったからと考えられている。

ア I と II

イ I と III

ウ I と IV

Ⅰ Ⅱ と Ⅲ

才 II と IV

力 III と IV

問2 米の市場開放や貿易について、以下の文章を読み、後の問いに答えなさい。

海外からは農産物の輸入自由化が求められてきました。牛肉とオレンジに続いて、米の自由化が求められ、GATT（**X**）^{ガット}ラウンドの交渉の結果、日本は1993年に米の部分的な市場開放を受け入れ、1999年から米の輸入は関税化がなされるようになりました。

近年の貿易に関する協定の動きとしては、2015年にアメリカを含む12カ国で大筋合意に至った（ Y ）があります。この協定は2017年に当時のトランプ大統領が就任した結果、アメリカが離脱を表明しました。その後、2018年に残された11カ国で（ Y ）11協定として発効しました。

- (1) 文章中の空らん (X) に当てはまる最も適当な語句を、**カタカナ**で答えなさい。
- (2) 文章中の下線部について、当時、米については最低輸入量が決められていました。このことを何といいますか。**正しいもの**を、後の**ア～エ**のうちから一つ選びなさい。
- | | |
|--------------------|--------------------|
| ア ミニマムアクセス | イ ミニマムインポート |
| ウ ミニマムマーケット | エ ミニマムトレード |
- (3) 文章中の空らん (Y) に当てはまる最も適当な語句を、**アルファベット3文字**で答えなさい。

問3 古代から近世にかけての米にかかわる土地や税について説明したものとして正しいものを、後のア～エのうちから一つ選びなさい。

ア 大宝律令が制定されたことにより、毎年作られる戸籍に基づいて、成人に達した民衆に口分田が支給され、収穫高の半分の米を納める租を支払うこととなった。

イ 平安時代末期になると公地公民の原則がくずれて、土地を私有する農民が増加した。こうした農民は年貢を国司に支払いたくなかったので当時の天皇に土地を寄進した。

ウ 室町幕府3代将軍足利義満は地方に守護・地頭の制度を確立させた。地頭は荘園領主から荘園の支配権を奪っていき、農民から年貢を強引に取り立てるようになった。

エ 豊臣秀吉は全国の農民が持つ土地の面積や生産高を直接役人に調査させて、一地一作人の原則のもと土地の所有者を確定した。これにより一律に年貢を取ることが可能となった。

問4 日本人の主食である米が1つの原因となって、古くから民衆が暴動を起こすことがありました。これについて説明をした文章A～Cを古い方から並びかえたものとして正しいものを、後のA～Cのうちから一つ選びなさい。

- A** ききんやこのときの政府の最高職が代わったことなどを原因として、民衆は借金を帳消しにする法令を政府に出すように求める暴動を起こした。
- B** 米の生産量が伸び悩んでいたなか、政府が外国への出兵を決めたことも原因となって、米の値段が急激に高くなり、民衆が暴動を起こした。
- C** 冷害や火山の噴火などで大ききんが起こり、米の値段が全国的に高くなった。主要都市に住む民衆が中心となって米屋をおそう暴動が起こった。

	ア	イ	ウ	エ	オ	カ
古い	A	A	B	B	C	C
↓	B	C	C	A	A	B
新しい	C	B	A	C	B	A

問5 「アメリカ」を漢字にすると「亜米利加」と表しますが、それに関連する後の問いに答えなさい。

- (1) 1858年に結ばれた条約によって、日本はアメリカと貿易を始めました。次の史料1はその条約の一部です。なお史料は読みやすくするために現代語に改められています。この史料を読んで、正しいものを、後のア～エのうちから一つ選びなさい。

史料1

第1条 今後日本の将軍と、アメリカ合衆国とはいつまでも仲良くすること……。

第2条 下田・箱館*港のほか、次の場所を……開くこと。

神奈川

長崎

新潟

兵庫

……神奈川港開港の6か月後、下田港を閉鎖すること。この箇条^{かじょう}のうちに記した各地にアメリカ人が居留することを許すこと……。

江戸

大坂*

この2か所はアメリカ人が商売をする間だけ滞在をすることができる……。

日米双方の人が品物を売買することは全くさしつかえない、その支払い方法などについては日本役人は立ちあわない。日本人がアメリカ人より手に入れた品物を売買すること、あるいは所持すること、ともにさしつかえない……。

第4条 すべて日本に輸入輸出の品々は、別冊の通り日本の役所へ関税を納めること……。

第5条 外国の諸貨幣は、日本の貨幣と同種類のものは同量で通用すること……。

第6条 日本人に対し罪を犯したアメリカ人は、アメリカ領事裁判所で取り調べのうえ、アメリカの法律で処罰すること、アメリカ人に罪を犯した日本人は、日本の役人が取り調べたうえで、日本の法律で処罰すること……。

第8条 日本にいるアメリカ人が自分の信仰する宗教を信じ、礼拝堂を居留地に建てることには問題はなく、また日本人がその建物を破壊したり、信仰する宗教をさまたげたりすることはしないこと……。

(東京大学史料編纂所編『幕末外交関係文書』、現代語訳は実教出版『新詳述 日本史史料集』)

*箱館、大坂……「函館」と「大阪」の江戸時代までの表記

ア 日本は下田・函館・神奈川・長崎・新潟・兵庫の6つの港をアメリカのために開港し、貿易を始めるとともに日本全国における居住も認められた。

イ 江戸と大阪ではアメリカ人が商売をする間だけは滞在が許されたが、品物を売買するときには必ず日本の役人が立ちあうこととされた。

ウ 日本に住むアメリカ人はキリスト教など信仰している宗教を信じるのが許され、そのために教会などの宗教的建物を築くことを認められた。

エ アメリカ人に対して日本人が罪を犯した場合は、アメリカの裁判所でアメリカの法律で処罰させることとなっており、不平等な条約となっていた。

- (2) 日本は第二次世界大戦後、アメリカを中心とする連合国軍の占領下に入りました。その際、日本の軍国主義的な社会・経済体制を民主主義的な体制に改めるために、史料2のような指令を日本に発布しました。これを読んで、具体的にどのような民主化を進めたかの説明として、誤っているものを、後のア～エのうちから一つ選びなさい。

史料2

「ポツダム」宣言の実現に^{あた}当りては、日本国民が数世紀に^{わた}亘り^{れいぞく}隷属せしめられたる伝統的
社会秩序は、^{ぜいせい}是正せらるるを要す。右は^い疑ひもなく、憲法の自由主義化を^{ほうがん}包含すべし。

……^{かか}斯る諸要求の^{りこう}履行及び^{ため}諸目的の実現の為、日本の社会制度に対する下記の諸改革を、
日本社会に同化し得る限り、出来得る限り速かに、実行することを期待す。

一、……日本の婦人を解放すること。……

二、労働組合の組織奨励。……

三、学校を、より自由主義的な教育の為、開校すること。……

四、国民に、秘密の審問の^{らんよう}濫用に^よ依り^う絶えず恐怖を与ふる組織を^{てつぱい}撤廃すること。……

五、日本の経済制度を民主主義化し、^{もつ}以て^{すみや}所得^{ならび}並に^{および}生産及商業手段の所有権を広く分配する
ことを保障する方法を発達せしむることに依り、独占的産業支配を是正すること。

(清水伸編『逐条・日本国憲法審議録』)

- ア 公職選挙法の改正により女性参政権を認めるとともに、女性の権利向上のため男女共同参画社会基本法を公布した。
- イ 労働者を保護する基本法として労働組合法・労働関係調整法・労働基準法を公布し、監督する機関として労働省を設置した。
- ウ 教育の機会均等・義務教育9年制・男女共学などを規定した教育基本法と新しい学校制度として学校教育法を公布した。
- エ 軍国主義の基盤であった財閥を解体して独占禁止法を公布するとともに、寄生地主制を除去するために農地改革を行った。
- (3) 国際連合の本部はアメリカ合衆国のニューヨークにあります。国際連合に関連する記述として正しいものを、後のア～エのうちから一つ選びなさい。

- ア 2025年12月現在、安全保障理事会の常任理事国はアメリカ合衆国・イギリス・ドイツ・フランス・中華人民共和国である。
- イ 2025年12月現在までに、日本は、安全保障理事会の非常任理事国に選出されたことがある。
- ウ 国際連合は、当時のアメリカ合衆国の大統領ウィルソンらが中心となって創設された。
- エ 安全保障理事会の常任理事国は、総会においても決議の成立を阻止する拒否権が認められている。

(4) 日本とアメリカ合衆国に関連する記述として正しいものを，後のア～エのうちから一つ選びなさい。

ア 2023 年において，日本の最大貿易輸入国は，アメリカ合衆国である。

イ ポーツマス条約が結ばれたのと同時に，日米安全保障条約が結ばれた。

ウ アメリカ合衆国では，自由民主党と立憲民主党による二大政党制がとられている。

エ 日本の政治制度は議院内閣制がとられているが，アメリカ合衆国は大統領制がとられている。

問6 全国には「米」がつく地名がいくつかあります。ヒロシさんは、米がつく地名として、山形県米沢市と鳥取県米子市について調べてみることにしました。ヒロシさんの調査に関する後の問いに答えなさい。

- (1) ヒロシさんは、米沢市ではブランド牛として「米沢牛」があることに気づき、全国の家畜の飼育頭数を調べてました。次の表1中のA～Cは、乳用牛，肉用牛，豚の飼育頭数の上位4道県を表したものです。A～Cと家畜名の組み合わせとして正しいものを、後のア～カのうちから一つ選びなさい。

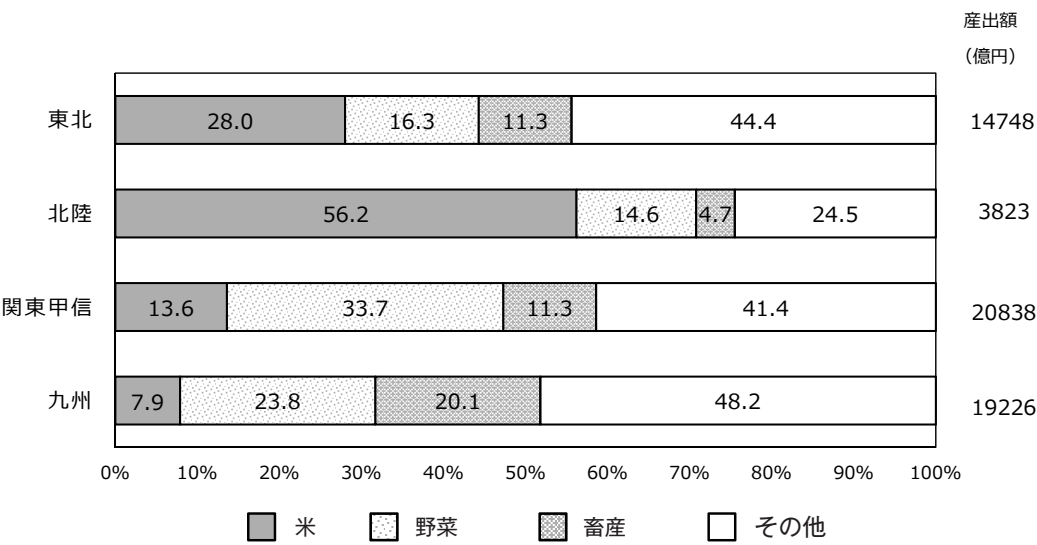
表1

	A	B	C
1 位	北海道	北海道	鹿児島
2 位	栃木	鹿児島	北海道
3 位	熊本	宮崎	宮崎
4 位	岩手	熊本	群馬

統計年次は 2024 年。
日本国勢図会より作成。

	ア	イ	ウ	エ	オ	カ
A	乳用牛	乳用牛	肉用牛	肉用牛	豚	豚
B	肉用牛	豚	豚	乳用牛	乳用牛	肉用牛
C	豚	肉用牛	乳用牛	豚	肉用牛	乳用牛

(2) 米沢市を含む、山形県の^{おきたま}置賜地域では、ブランド米として「つや姫」が広い範囲で栽培されています。次の図2は、日本の地域別における農業の産出額に占める割合と産出額を示したものです。図2から読み取れる内容として誤っているものを、後のア～エのうちから一つ選びなさい。



全国農業地域区分による。北陸は、新潟・富山・石川・福井の4県をさす。
統計年次は2023年。
日本国勢図会より作成。

図2

- ア 東北と関東甲信の米の農業産出額を比較してみると、関東甲信の方が産出額が大きくなる。
- イ 東北と関東甲信の畜産の農業産出額を比較してみると、関東甲信の方が産出額が大きくなる。
- ウ 北陸と九州の米の農業産出額を比較してみると、北陸の方が産出額が大きくなる。
- エ 北陸と九州の畜産の農業産出額を比較してみると、九州の方が産出額が大きくなる。

(3) 米子市にある米子空港は、「ゲゲゲの鬼太郎」の作者である、水木しげるが幼少期を過ごした境港市が近くにあることから、「米子鬼太郎空港」という愛称がついています。また、米子空港では図3のような記念スタンプが押せるようになっています。次の図4は、愛称がついている空港の記念スタンプであり、D～Fは山形空港、高知空港、出雲空港のいずれかです。D～Fと空港名の組み合わせとして正しいものを、後のア～カのうちから一つ選びなさい。なお空港名が判断できる部分は削除してあります。



図3 米子鬼太郎空港の記念スタンプ



D



E



F

図4

	ア	イ	ウ	エ	オ	カ
D	山形空港	山形空港	高知空港	高知空港	出雲空港	出雲空港
E	高知空港	出雲空港	出雲空港	山形空港	山形空港	高知空港
F	出雲空港	高知空港	山形空港	出雲空港	高知空港	山形空港

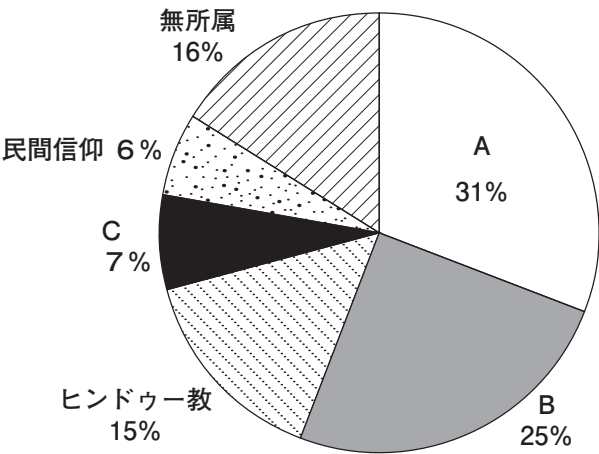
2

文化について，後の問いに答えなさい。

問 1 **問題に不備があったため、全員正解といたしました。**

問2 宗教には、人々の生き方のよりどころを与え、生活や社会の規範を示す役割があります。後の問いに答えなさい。

(1) 次の図1は、世界の宗教別人口を示したものであり、A～Cは、キリスト教、イスラム教（イスラーム）、仏教のいずれかです。A～Cと宗教名の組み合わせとして正しいものを、後のア～カのうちから一つ選びなさい。



統計年次は2024年。
世界国勢図会より作成。


図1

	ア	イ	ウ	エ	オ	カ
A	キリスト教	キリスト教	イスラム教	イスラム教	仏教	仏教
B	イスラム教	仏教	仏教	キリスト教	キリスト教	イスラム教
C	仏教	イスラム教	キリスト教	仏教	イスラム教	キリスト教

- (2) 古代日本では、国を守る宗教として中国・朝鮮から伝わった仏教を保護してきました。そのうち、奈良時代の聖武天皇にかかわる建物・絵画・彫刻として**正しいもの**を、後のア～エのうちから一つ選びなさい。



- ア この絵は、天皇墓のひつぎが納められている「玄室」と呼ばれる部屋の西側の壁に描かれているものです。この女性の姿は、当時の朝鮮の人々の姿と似ている点が多いです。



- イ これは天皇からいただいたきょうおうこく教王護国寺という寺院にあるまんだら曼荼羅と呼ばれるものです。宇宙の中心とされる大日如来をにょらい中心に置き、仏の心理を図式化したものです。



ウ これは、天皇が建立した法隆寺の金堂にある釈迦三尊像と呼ばれる仏像です。きちんと整っているとともに威厳のある顔だちのなかにおだやかなほほえみをたたえた仏像で、鞍作くら鳥つくりのとり（止利仏師）によって完成したものです。



エ 天皇の遺品などが、天皇の正妻である皇后からめい福を祈る形で東大寺にゆずりわたされました。この遺品を収めた倉庫です。湿度などを管理する目的で校倉造で建てられています。

- (3) 中世は武士の世となったことで、武士や庶民に向けた新たな仏教が信仰されるようになりました。そのうち、臨済宗について説明した文として**正しいもの**を、後の**ア～エ**のうちから一つ選びなさい。

- ア** 道元が宋にわたって伝えてきた宗派で、ただひたすらに坐禪^{ざぜん}をすることで悟^{さと}りを開くことができる^とと説いた。総本山は現在の福井県にある永平寺とした。
- イ** 栄西が宋にわたって伝えてきた宗派で、坐禪^{ざぜん}をする中で師から与えられる問題を解決することで悟^{さと}りを開くことができる^ととした。宋から蘭溪道隆^{らんけいどうりゅう}ら身分の高い僧も来日した。
- ウ** 法然が開いた宗派で、ひたすら「南無阿弥陀仏^{なむあみだぶつ}」という念仏を唱えれば、死後平等に極楽浄土^{ごくらくじょうど}に往生できると説いた。総本山は京都東山にある知恩院とした。
- エ** 一遍が開いた宗派で、いつ何時も「南無阿弥陀仏^{なむあみだぶつ}」という念仏を唱えれば、すべての人が救われると説いた。全国を遊行^{ゆぎょう}し、踊念仏^{おどり}によって布教をした。

- (4) 1549 年にフランシスコ＝ザビエルによって日本にキリスト教が伝わりました。その後の日本におけるキリスト教とのかかわりを説明した文章 **I～III** を古い方から並びかえたものとして**正しいもの**を、後の**ア～カ**のうちから一つ選びなさい。

- I** キリシタン大名により天正遣欧使節^{けんおう}がローマに派遣^{はけん}されたが、帰国後はバテレン追放令が出されていて、布教活動^{えふき}が制限された。
- II** 禁教令が出され、絵踏^{えふみ}が行われるようになると、表面上キリスト教を捨ててひそかに信仰^{しん}を続ける潜伏キリシタンが発生した。
- III** 京都に南蛮寺（教会）の建立を許してキリスト教を保護したが、比叡山の焼打ちや一向一揆の弾圧など仏教勢力は弾圧した。

	ア	イ	ウ	エ	オ	カ
古い	I	I	II	II	III	III
↓	II	III	III	I	I	II
新しい	III	II	I	III	II	I

- (5) 明治新政府の宗教政策について、内容として正しい文章の組み合わせを、後のア～カのうちから一つ選びなさい。

- Ⅳ 神道こそが国の宗教であるとして保護をし、神道と仏教が合わさった状況を認めない方針をかけた。これにより多くの寺院や仏像が破壊された。
- Ⅴ 外国の知識を積極的に導入する目的で、明治新政府は発足当初からプロテスタントのミッション＝スクールを認め、津田梅子らが学んだ。
- Ⅵ 大日本帝国憲法では国民は「臣民」として法律の範囲内で信仰の自由が認められたが、実際は神道以外の宗教の信仰を認めることはなかった。
- Ⅶ 庶民に向けた五^{こぼろ}榜の掲示にキリスト教の禁止をかけたため、キリスト教の信仰を告白した長崎県浦上の住民を津和野など西日本各地に移住させた。

- | | | | | | |
|---|-----|---|-----|---|-----|
| ア | ⅣとⅤ | イ | ⅣとⅥ | ウ | ⅣとⅦ |
| エ | ⅤとⅥ | オ | ⅤとⅦ | カ | ⅥとⅦ |

- (6) 第二次世界大戦後に宗教にからんで起こったできごとに関して述べた文X・Yについて、その正誤の組み合わせとして正しいものを、後のア～エのうちから一つ選びなさい。

- X 宗教団体である創価学会を支持母体として中道政治の実現を目指して公明党が結成された。
- Y 新興宗教団体であるオウム真理教は、地下鉄丸ノ内線・日比谷線・千代田線の車内に化学兵器を使用し、多くの死傷者を出す無差別テロ事件を実行した。

	ア	イ	ウ	エ
X	正	正	誤	誤
Y	正	誤	正	誤

問3 世界遺産条約は正式には「世界の文化遺産及び自然遺産の保護に関する条約」という名称で、1972年に採択された条約です。これに関連する以下の問いに答えなさい。

(1) 後のア～カは日本で登録されている世界遺産です。このうち最も新しく登録された文化遺産と自然遺産を、それぞれ一つずつ選び記号で答えなさい。

- | | |
|-------------------|-----------------------|
| ア 佐渡山の金山 | イ 北海道・北東北の縄文遺跡群 |
| ウ 富士山・信仰の対象と芸術の源泉 | エ 知床 |
| オ 小笠原諸島 | カ 奄美大島、徳之島、沖縄島北部及び西表島 |

(2) 日本国憲法において定められている条約の手続きに関する説明A～Cのうち、内容として正しいものを、後のア～キのうちから一つ選びなさい。

- A 条約の締結は内閣が行う。
B 国会における条約の承認について、衆議院と参議院で異なった議決をした場合は両院協議会を開かなければならない。
C 衆議院で承認したものを参議院が30日以内に議決しない場合、衆議院の議決を国会の議決とする。

- | | | | |
|-------|-------|---------|-------|
| ア A | イ B | ウ C | エ AとB |
| オ AとC | カ BとC | キ AとBとC | |

問4 11月3日は文化の日として祝日法に定められています。この日は日本国憲法が公布された日でもあります。祝日法が定められる以前の大日本帝国憲法下においては、明治天皇の誕生日として祝日となっていたそうです。これに関連して、日本国憲法と大日本帝国憲法についての説明X・Yについて、その正誤の組み合わせとして正しいものを、後のア～エのうちから一つ選びなさい。

- X 国民の義務は、大日本帝国憲法から日本国憲法になっても変化していない。
Y 大日本帝国憲法下における天皇は主権者であったが、日本国憲法では天皇は国政に関する権能を有しないと定められている。

	ア	イ	ウ	エ
X	正	正	誤	誤
Y	正	誤	正	誤

問5 食も文化を構成する大きな要素です。日本は周囲を海に囲まれた海洋国家であり、古くから魚介類を多く食べてきました。しかし近年その状況が大きく変わりつつあります。次の資料は、駿河湾と瀬戸内海で起きている事例であり、いずれも漁獲量が減少しています。この場合の「豊かな海」とはどのような海を指しますか。資料を参考にして説明しなさい。

資料1 「きれいな海」と「豊かな海」は別 下水処理見直しシラス不漁解消へ

駿河湾のシラス不漁の一因とされる栄養不足の水質環境を変えようと、静岡市は安倍川河口近くにある中島浄化センター（駿河区）の運転方法を変更することで植物性プランクトンの栄養源となるアンモニア性窒素の処理率を下げ、放流量を増やすことにした。目標を「きれいな海」から「豊かな海」へと転換する取り組みで、県内の自治体では初めてという。

同センターは市内最大の下水処理施設。これまでは高度成長期以降の環境汚染対策の方針に従い、下水をできる限り浄化したうえで安倍川経由で駿河湾に放流してきた。しかし近年、水質がきれいになり過ぎて栄養分が不足すると植物性プランクトンが減り、それを捕食する動物性プランクトンも減り、さらにそれを捕食する魚類が減少する循環が指摘されるようになった。（後略）

出典

「きれいな海」と「豊かな海」は別 下水処理見直しシラス不漁解消へ 毎日新聞
2025-08-17 毎日新聞デジタル
<https://mainichi.jp/articles/20250815/k00/00m/040/253000c>
（参照 2025-09-01）

資料2 瀬戸内海の現状と豊かな海づくり活動

瀬戸内海は、日本最大の内海で、多数の海に彩られ、古くから比類のない美しさを誇る景勝地として、また豊かな漁場として私たちの暮らしに豊かさをもたらせてきました。しかし、高度経済成長期の都市化・工業化の進展に伴い富栄養化が著しく進行し、赤潮等の被害が発生する「瀬死の海」と呼ばれました。その後、厳しい排水規制や処理施設の整備等の対策の結果、水質は大きく改善した一方、貧栄養化が進み、ノリの色落ち、アサリやイカナゴなど漁獲量が急減するなど海の生態系に深刻な影響が生じています。（後略）

出典

豊かな海づくり活動の推進に向けて 兵庫県
2025-02-05 兵庫県ホームページ <https://web.pref.hyogo.lg.jp/nk23/index.html>
（参照 2025-09-01）

